

★启用前注意保密

## 2023 年普通高等学校招生全国统一考试模拟测试（一）

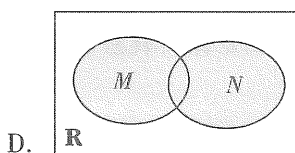
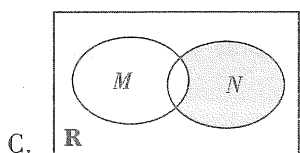
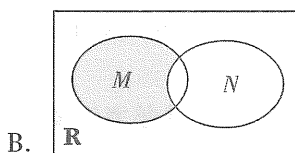
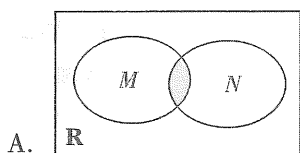
# 数 学

本试卷共 6 页，22 小题，满分 150 分。考试用时 120 分钟。

- 注意事项：**
1. 答卷前，考生务必将自己所在的市（县、区）、学校、班级、姓名、考场号、座位号和考生号填写在答题卡上，将条形码横贴在每张答题卡右上角“条形码粘贴处”。
  2. 作答选择题时，选出每小题答案后，用 2B 铅笔在答题卡上将对应题目选项的答案信息点涂黑；如需改动，用橡皮擦干净后，再选涂其他答案。答案不能答在试卷上。
  3. 非选择题必须用黑色字迹的钢笔或签字笔作答，答案必须写在答题卡各题目指定区域内相应位置上；如需改动，先画掉原来的答案，然后再写上新答案；不准使用铅笔和涂改液。不按以上要求作答无效。
  4. 考生必须保证答题卡的整洁。考试结束后，将试卷和答题卡一并交回。

**一、选择题：**本题共 8 小题，每小题 5 分，共 40 分。在每小题给出的四个选项中，只有一项是符合题目要求的。

1. 已知集合  $M = \{x \mid x(x-2) < 0\}$ ， $N = \{x \mid x-1 < 0\}$ ，则下列 Venn 图中阴影部分可以表示集合  $\{x \mid 1 \leq x < 2\}$  的是



2. 已知一个圆锥和圆柱的底面半径和高分别相等，若圆锥的轴截面是等边三角形，则这个圆锥和圆柱的侧面积之比为

A.  $\frac{1}{2}$

B.  $\frac{\sqrt{2}}{2}$

C.  $\frac{\sqrt{3}}{3}$

D.  $\sqrt{3}$

3. 已知函数  $f(x) = \begin{cases} 2^x, & x \geq 0, \\ -\left(\frac{1}{2}\right)^x, & x < 0, \end{cases}$  若  $f(a) < f(6-a)$ ，则实数  $a$  的取值范围是

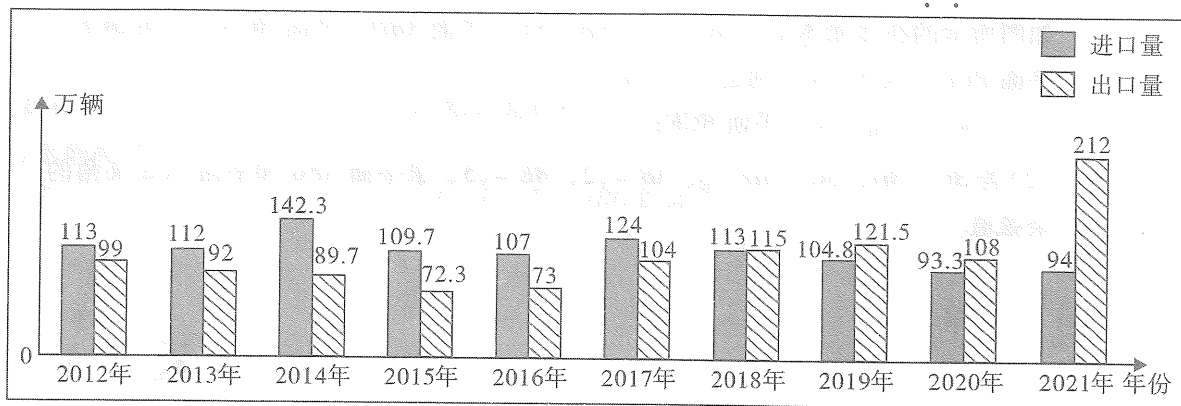
A.  $(-3, +\infty)$

B.  $(-\infty, -3)$


C.  $(3, +\infty)$

D.  $(-\infty, 3)$

4. 如图所示是中国 2012—2021 年汽车进、出口量统计图, 则下列结论错误的是



- A. 2012—2021 年中国汽车进口量和出口量都是有增有减的  
 B. 从 2018 年开始, 中国汽车的出口量大于进口量  
 C. 2012—2021 年中国汽车出口量的第 60 百分位数是 106 万辆  
 D. 2012—2021 年中国汽车进口量的方差大于出口量的方差
5. 在复平面内, 已知复数  $z$  满足  $|z-1| = |z+i|$  ( $i$  为虚数单位), 记  $z_0 = 2+i$  对应的点为点  $Z_0$ ,  $z$  对应的点为点  $Z$ , 则点  $Z_0$  与点  $Z$  之间距离的最小值为
- A.  $\frac{\sqrt{2}}{2}$       B.  $\sqrt{2}$       C.  $\frac{3\sqrt{2}}{2}$       D.  $2\sqrt{2}$
6. 如图, 在两行三列的网格中放入标有数字 1, 2, 3, 4, 5, 6 的六张卡片, 每格只放一张卡片, 则“只有中间一列两个数字之和为 5”的不同的排法有



- A. 96 种      B. 64 种      C. 32 种      D. 16 种
7. 已知双曲线  $C: \frac{x^2}{a^2} - \frac{y^2}{b^2} = 1 (a > 0, b > 0)$ , 点  $B$  的坐标为  $(0, b)$ , 若  $C$  上的任意一点  $P$  都满足  $|PB| \geq b$ , 则  $C$  的离心率取值范围是
- A.  $(1, \frac{\sqrt{5}+1}{2}]$       B.  $[\frac{\sqrt{5}+1}{2}, +\infty)$   
 C.  $(1, \sqrt{2}]$       D.  $[\sqrt{2}, +\infty)$
8. 水平桌面上放置了 4 个半径为 2 的小球, 4 个小球的球心构成正方形, 且相邻的两个小球相切. 若用一个半球形的容器罩住四个小球, 则半球形容器内壁的半径的最小值为
- A. 4      B.  $2\sqrt{2}+2$       C.  $2\sqrt{3}+2$       D. 6

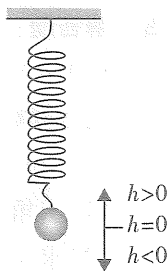
二、选择题：本题共4小题，每小题5分，共20分。在每小题给出的选项中，有多项符合题目要求，全部选对的得5分，部分选对的得2分，有选错的得0分。

9. 如图，弹簧下端悬挂着的小球做上下运动(忽略小球的大小)，它在

$t(s)$ 时刻相对于平衡位置的高度  $h(\text{cm})$  可以由  $h = 2\sin\left(\frac{\pi}{2}t + \frac{\pi}{4}\right)$  确

定，则下列说法正确的是

- A. 小球运动的最高点与最低点的距离为2 cm
- B. 小球经过4 s 往复运动一次
- C.  $t \in (3, 5)$  时小球是自下往上运动
- D. 当  $t = 6.5$  时，小球到达最低点



10. 在四棱锥  $S-ABCD$  中， $SD \perp$  平面  $ABCD$ ，四边形  $ABCD$  是正方形，若  $SD = AD$ ，则

- A.  $AC \perp SD$
- B.  $AC$  与  $SB$  所成角为  $60^\circ$
- C.  $BD$  与平面  $SCD$  所成角为  $45^\circ$
- D.  $BD$  与平面  $SAB$  所成角的正切值为  $\frac{\sqrt{3}}{3}$

11. 已知抛物线  $E: y^2 = 8x$  的焦点为  $F$ ，点  $F$  与点  $C$  关于原点对称，过点  $C$  的直线  $l$  与抛物线  $E$  交于  $A, B$  两点(点  $A$  和点  $C$  在点  $B$  的两侧)，则下列命题正确的是

- A. 若  $BF$  为  $\triangle ACF$  的中线，则  $|AF| = 2|BF|$
- B. 若  $BF$  为  $\angle AFC$  的角平分线，则  $|AF| = 6$
- C. 存在直线  $l$ ，使得  $|AC| = \sqrt{2}|AF|$
- D. 对于任意直线  $l$ ，都有  $|AF| + |BF| > 2|CF|$

12. 已知定义在  $\mathbf{R}$  上的函数  $f(x)$ ，对于给定集合  $A$ ，若  $\forall x_1, x_2 \in \mathbf{R}$ ，当  $x_1 - x_2 \in A$  时都有  $f(x_1) - f(x_2) \in A$ ，则称  $f(x)$  是“ $A$  封闭”函数. 则下列命题正确的是

- A.  $f(x) = x^2$  是“ $[-1, 1]$  封闭”函数
- B. 定义在  $\mathbf{R}$  上的函数  $f(x)$  都是“ $\{0\}$  封闭”函数
- C. 若  $f(x)$  是“ $\{1\}$  封闭”函数，则  $f(x)$  一定是“ $\{k\}$  封闭”函数( $k \in \mathbf{N}^*$ )
- D. 若  $f(x)$  是“ $[a, b]$  封闭”函数( $a, b \in \mathbf{N}^*$ )，则  $f(x)$  不一定是“ $\{ab\}$  封闭”函数

三、填空题：本大题共4小题，每小题5分，共20分。请把答案填在答题卡的相应位置上。

13. 已知向量  $a, b$  满足  $|a| = 2, |b| = 4, (b - a) \cdot a = 0$ ，则  $a$  与  $b$  的夹角为\_\_\_\_\_.

14. 在平面直角坐标系中，等边三角形  $ABC$  的边  $AB$  所在直线斜率为  $2\sqrt{3}$ ，则边  $AC$  所在直线斜率的一个可能值为\_\_\_\_\_.

15. 已知  $f(x)$  是定义在  $\mathbf{R}$  上的奇函数，且  $f(x)$  在  $[0, 2]$  上单调递减， $f(x + 2)$  为偶函数，若  $f(x) = m$  在  $[0, 12]$  上恰好有4个不同的实数根  $x_1, x_2, x_3, x_4$ ，则  $x_1 + x_2 + x_3 + x_4 =$ \_\_\_\_\_.

16. 已知动圆  $N$  经过点  $A(-6, 0)$  及原点  $O$ , 点  $P$  是圆  $N$  与圆  $M: x^2 + (y-4)^2 = 4$  的一个公共点, 则当  $\angle OPA$  最小时, 圆  $N$  的半径为\_\_\_\_\_.

四、解答题: 本大题共 6 小题, 共 70 分。解答应写出文字说明、证明过程或演算步骤。

17. (10 分)

在  $\triangle ABC$  中, 角  $A, B, C$  的对边分别为  $a, b, c$ , 已知  $\cos 2A + \cos 2B - \cos 2C = 1 - 2\sin A \sin B$ .

(1) 求角  $C$  的大小;

(2) 求  $\sin A + \sin B + \sin C$  的取值范围.

18. (12 分)

已知各项都是正数的数列  $\{a_n\}$ , 前  $n$  项和  $S_n$  满足  $a_n^2 = 2S_n - a_n (n \in \mathbb{N}^*)$ .

(1) 求数列  $\{a_n\}$  的通项公式.

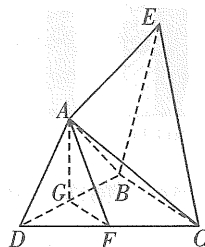
(2) 记  $P_n$  是数列  $\left\{\frac{1}{S_n}\right\}$  的前  $n$  项和,  $Q_n$  是数列  $\left\{\frac{1}{a_{2^n-1}}\right\}$  的前  $n$  项和. 当  $n \geq 2$  时, 试比较  $P_n$  与  $Q_n$  的大小.

19. (12分)

如图所示的在多面体中,  $AB = AD$ ,  $EB = EC$ , 平面  $ABD \perp$  平面  $BCD$ , 平面  $BCE \perp$  平面  $BCD$ , 点  $F, G$  分别是  $CD, BD$  中点.

(1) 证明: 平面  $AFG \parallel$  平面  $BCE$ ;

(2) 若  $BC \perp BD$ ,  $BC = BD = 2$ ,  $AB = \sqrt{2}$ ,  $BE = \sqrt{5}$ , 求平面  $AFG$  和平面  $ACE$  夹角的余弦值.



20. (12分)

某商场为了回馈广大顾客, 设计了一个抽奖活动, 在抽奖箱中放 10 个大小相同的小球, 其中 5 个为红色, 5 个为白色. 抽奖方式为: 每名顾客进行两次抽奖, 每次抽奖从抽奖箱中一次性摸出两个小球. 如果每次抽奖摸出的两个小球颜色相同即为中奖, 两个小球颜色不同即为不中奖.

(1) 若规定第一次抽奖后将球放回抽奖箱, 再进行第二次抽奖, 求中奖次数  $X$  的分布列和数学期望.

(2) 若规定第一次抽奖后不将球放回抽奖箱, 直接进行第二次抽奖, 求中奖次数  $Y$  的分布列和数学期望.

(3) 如果你是商场老板, 如何在上述两种抽奖方式中进行选择? 请写出你的选择及简要理由.

21. (12分)

已知点  $A$ , 点  $B$  和点  $C$  为椭圆  $C: \frac{x^2}{a^2} + \frac{y^2}{b^2} = 1 (a > b > 0)$  上不同的三个点. 当点  $A$ , 点  $B$  和点  $C$  为椭圆的顶点时,  $\triangle ABC$  恰好是边长为 2 的等边三角形.

(1) 求椭圆  $C$  的标准方程;

(2) 若  $O$  为原点, 且满足  $\vec{OA} + \vec{OB} + \vec{OC} = \vec{0}$ , 求  $\triangle ABC$  的面积.

22. (12分)

已知函数  $f(x) = xe^{x+1}$ .

(1) 求  $f(x)$  的极值;

(2) 当  $x > 0$  时,  $f(x) \geq (a+1)x + \ln x + 2$ , 求实数  $a$  的取值范围.